

「日本史A」(2年選択) 評価問題

<注意事項>

- 1 答えは別紙の解答用紙に記入しなさい。なお、この問題用紙は回収しません。
- 2 漢字で答えるべきものは、指定がなくとも全て漢字で回答すること。

① 憲法制定後の政治動向

I 以下は、憲法制定後における日本の政治の動向について、政治家の演説を取り上げながらグループで発表した資料の一部である。ただしA～Cは必ずしも年代順とはなっていない。

A 山県有朋首相の演説

「予算中ニ就キマシテ最歳出ノ大部分ヲ占メルモノハ、即陸海軍ノ経費デ御座イマス。……蓋国家独立自衛ノ道ニ二途アリ。第一ニ（ 1 ）線ヲ守禦スルコト、第二ニハ（ 2 ）線ヲ保護スルコトデアル」

これは、山県有朋首相による④帝国議会での施政方針演説です。山県首相は、国境としての（ 1 ）線とともに、朝鮮半島を含む（ 2 ）線を防衛するための軍備増強予算案を説明し、

B 尾崎行雄文相の演説

「世人は米国を拝金の本元のように思っているが、米国では金があるために大統領になったものは一人もいない。歴代の大統領は貧乏人の方が多い。日本では（ 3 ）政治を行う気遣いはないが、仮に（ 3 ）政治がありという夢を見たとしても、恐らく三井・三菱は大統領の候補者となるであろう。……」

これは、日本で初めての政党内閣である⑤隈板内閣のときに起こった、尾崎行雄文相による（ 3 ）演説事件のものです。尾崎はこの演説でを批判しましたが「不敬の言」であるとねじ曲げられ、辞職に追い込まれました。

C 黒田清隆首相の演説

「然ルニ政治上の意見ハ人々其所説ヲ異ニシ、其説ノ合同スル者ヲ相投シテ一ノ団結ヲナシ、政党ナル者ノ社会ニ存立スルハ情勢ノ免レサル所ナシト雖、政府ハ常ニ一定ノ政策ヲ取り、（ 4 ）政党ノ外ニ立ち、至正至中ノ道ニ居ラサル可ラス。」

これは、黒田清隆首相が③鹿鳴館において、地方長官に対して演説したものです。政党の意見や世論に左右されず、（ 4 ）として公正な政策を行うよう演説し、政党政治を否定しました。

問1 上記の空欄（ 1 ）～（ 4 ）にふさわしい語句をおのおの次から記号で選べ。

ア) 共和, イ) 民力, ウ) 利益, エ) 超然, オ) 主権, カ) 民主,

問2 A～Cの演説について、年代順に正しく配列したものを次の①～⑥から番号で選べ。

- ① A-B-C, ② A-C-B, ③ B-A-C,
 ④ B-C-A, ⑤ C-A-B, ⑥ C-B-A,

問3 資料中の空欄 ア ・ イ に入る文言として最もふさわしいものを、おのおの①～④から番号で選べ。

空欄 ア

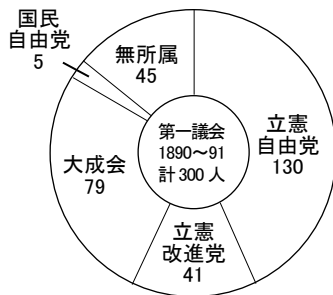
- ① 政費節減・民力休養を説く民党と対立しました。
 ② 内務大臣の品川弥二郎が激しい選挙干渉を行いました。
 ③ 天皇の詔書の力を用いて軍備を拡張させました。
 ④ これに反対する国民が日比谷焼打ち事件を起こしました。

空欄 イ

- ① 元勳総出の藩閥政府 ② アメリカ大統領の政治姿勢
 ③ 財閥中心の腐敗した金権政治 ④ 米国依存の外交姿勢

問4 下線部⑤とあるが、初期議会に関する次の資料を参照し、これに関連して述べた後の①～④の各文のうち、**適当でないもの**を番号で選べ。

第1回衆議院総選挙の獲得議席



投票の様子（ビゴアの風刺画）





- ① 立憲自由党・立憲改進黨などの民党が過半数の議席を獲得した。
 ② 政府を支持する吏党であった大成会の獲得議席は全体の20%に満たなかった。
 ③ 有権者資格は、直接国税15円以上を納める満25歳以上の男性であった。
 ④ 風刺画には、高圧的な立会人とともに警官の姿も描かれている。

問5 下線部⑥とあるが、隈板内閣の前後における政治に関する次のⅠ～Ⅲの出来事について、年代順に正しく配列したものを後の①～⑥から番号で選べ。

- Ⅰ 立憲政友会を中心とする第4次伊藤博文内閣が成立した。
 Ⅱ 第2次松方正義内閣が進歩党と連携し、地租増徴案を成立させた。
 Ⅲ 第2次山県有朋内閣が治安警察法を公布した。

- ① Ⅰ-Ⅱ-Ⅲ, ② Ⅰ-Ⅲ-Ⅱ, ③ Ⅱ-Ⅰ-Ⅲ,
 ④ Ⅱ-Ⅲ-Ⅰ, ⑤ Ⅲ-Ⅰ-Ⅱ, ⑥ Ⅲ-Ⅱ-Ⅰ,


問6 下線部㉔とあるが、井上馨外相の鹿鳴館時代その後の条約改正交渉に関する次の資料を参照し、後の問いにおのおの答えよ。

<p>鹿鳴館の外観</p> 	<p>欧化主義の風刺画</p> 
<p>事件 1 1886年10月、イギリスの貨物船ノルマントン号が紀伊半島沖で難破した。イギリス人船長や乗組員は脱出したが、日本人乗客25名は全員溺死した。</p> <p>事件 2 1891年5月、滋賀県大津でシベリア鉄道の起工式にのぞむ途中に来日したロシア皇太子ニコライが、警備の津田三蔵巡査に襲われ負傷した。成立直後であった第1次松方正義内閣や元老は、日露関係の悪化をおそれ、皇族に対する「大逆罪」を適用し、津田の死刑を要請した。これに対し、大審院長の児島惟謙は ウ。</p>	

- (1) 鹿鳴館を設計したイギリス人建築家の名を答えよ。
- (2) 井上馨の外交姿勢に対する批判が高まったのはどうしてか、**風刺画**や**事件 1**に触れて説明せよ。解答欄は3～4行用いることとする。※行の不足は内容が正解でも減点する。
- (3) **事件 2**により引責辞任した外務大臣として適当なものを次の①～④から番号で選べ。

① 寺島宗則,	② 陸奥宗光,	③ 青木周蔵,	④ 榎本武揚,
---------	---------	---------	---------
- (4) **事件 2**の文中にある ウ に文言を入れ、歴史的文脈に合うよう文を完成させよ。解答欄は2行用いることとする。※行の不足は内容が正解でも減点する。

II 以下は、ある首相（内閣総理大臣）について生徒がまとめた「レポート」の一部である。文中の には、その首相名があてはまる。これを参照し、後の問いに答えよ。

<p>大正政変によって㉔<u>桂園時代</u>が終わると、薩摩出身の海軍大将であった が立憲政友会を与党とした組閣した。内閣は行政整理をおこなうとともに、文官任用令と軍部大臣現役武官制を改定し、（ 1 ）。……しかし、1914年に外国製の軍艦や兵器輸入をめぐる海軍高官の汚職（= X 事件）が発覚すると、都市民衆の抗議行動が盛り上がり、やむなく退陣した。</p>	
--	---

再び [] が首相となったのは、1923年9月1日に発生した「関東大震災」の直後であった。相模湾北西部を震源としたマグニチュード7.9の大地震と火災は、東京市と横浜市を廃墟と化させ、死者・行方不明者は10万人を数えた。全壊・流失・全焼家屋は57万戸にのぼり、被害総額は約60億円をこえた。

一方で、震災後におきた朝鮮人・中国人に対する殺傷事件は、自然災害が人為的な殺傷行為を大規模に誘発した例として日本の災害史上、ほかに類をみないものとなった。流言により多くの朝鮮人が殺傷された背景として、(2)があったとみられる。市民・警察・軍が例外的とは言えない規模で暴力を行使した。

男性普通選挙制の導入は第2次 [] 内閣でも検討されていたが、関東大震災の影響と、摂政宮裕仁親王が無政府主義者に襲撃された [Y] 事件により退陣となった。

問7 文中の [] にふさわしい首相名を答えよ。

問8 文中の空欄 [X] ・ [Y] にふさわしい語句の組合せとして適当なものを選べ。

- ① X－ジュネーヴ Y－大 逆 ② X－ジューメンス Y－虎ノ門
③ X－ジュネーヴ Y－虎ノ門 ④ X－ジューメンス Y－大 逆

問9 文中の空欄 (1) ・ (2) にふさわしい文言の組合せとして最も適当なものを、後の①～④から番号で選べ。

空欄 (1)

- ア 官僚・軍部に対する政党の影響力の拡大に努めた。
イ 官僚・軍部に政党の影響力が及ばないように努めた。

空欄 (2)

- ウ 日本の植民地支配に対する抵抗運動への恐怖心
エ 日本の中国進出に反対するアメリカ政府への配慮

- ① (1) －ア (2) －ウ ② (1) －ア (2) －エ
③ (1) －イ (2) －ウ ④ (1) －イ (2) －エ

問10 下線部㉔とあるが、桂園時代において「桂太郎内閣」のときの政策として適当なものは次の a ～ c のうちどれか。後の①～⑥より最も適当なものを番号で選べ。

- a 鉄道国有法を成立させた。
b 戊申詔書を発布した。
c 地方改良運動を推進した。

- ① a のみ, ② b のみ, ③ c のみ,
④ a と b, ⑤ a と c, ⑥ b と c,

(問題は5ページに続きます)

② 日清・日露戦争

A 清朝は、中華思想に基づく伝統的な冊封・朝貢体制を採用し、18世紀末以降イギリスによる貿易改善（対等な国交樹立と貿易拡大）要求を拒絶した。しかし、南京条約で朝貢貿易体制は崩壊し、中国は西欧主導の自由貿易体制に組み込まれた。また冊封体制も、清仏戦争後のベトナムに続き、a 下関条約での朝鮮の独立で実質的に崩壊した。

アヘン戦争や太平天国の乱で威信が低下した清朝では、内外の危機に対して軍事技術を中心にヨーロッパの近代工業をとりいれ富国強兵をはかろうとする「洋務運動」が展開された。この改革は、太平天国の鎮圧に活躍した曾國藩や **ア**（下関条約の際の清国全権）らの漢人官僚たちを中心に推進されたが、中国の伝統や制度を保持しようとしたため、自由主義や立憲政治などは考慮されず、改革には限界があった。中国独自の「中体西用※1」を評価する考え方もあるが、すでに明治維新で近代的諸改革に乗り出していた日本では、清朝の朝鮮政策に対し **イ** が「脱亜論」を唱え、“連帯から対決”の姿勢へと変わっていった。

※1「中体西用」… 洋務運動の基本思想。西洋文明導入を合理化するために、伝統的な中華文明が「本体」であり、西洋文明は利用すべき技術・手段に過ぎないとした。

—《1881年「時事小言」より》—

今、東洋で文明の中心になっているのは日本であるから、責任をもってアジアを保護すべきである。……清や朝鮮は西洋の侵略を防ぐことができない。日本が武力で清や朝鮮を応援することは、日本にとって当然のことである。

【問い】 なぜ **イ** の考え方は変化したのだろうか？

- 〈背景〉 1) 列強による帝国主義政策とアジア進出
2) **b** 朝鮮問題と清朝政府の対応
3) **c** イギリスとの連携

【答え】 **ウ**

—《1885年「時事新報」より》—

清や朝鮮が開化するのを待っている余裕はない。むしろ、日本はアジアから抜け出して、西洋諸国と行動をともにすべきである。清や朝鮮が隣の国だからといって、遠慮はせず、西洋人と同じ方法で接するのがよい。

問1 上記の空欄 **ア** ・ **イ** にふさわしい人名をおののおの答えよ。

問2 下線部①とあるが、下関条約直後における次の出来事について、後の問いに答えよ。

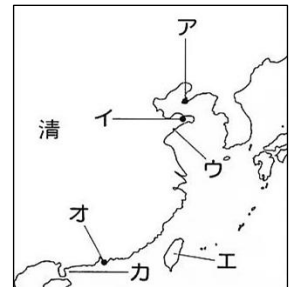
I 下関条約で日本は、^{たいわん}台湾・^{ほうこ}澎湖諸島とともに（ 1 ）^{かつじょう}半島の割譲を受けた。しかし半島の割譲は^{まんしゅう}満州（中国東北部）に利害関係のあるロシアを刺激し、講和成立直後にロシアは^{へんかん}フランス・ドイツを誘って、同半島の清への返還を日本に要求した。

Ⅱ 対日賠償金を列強からの借入に依存せざるを得なかった清に対し、借款を代償とする列強の勢力範囲の設定があいついだ。まず1898年に、ドイツが(2)半島にある(3)を、ついでロシアが(1)半島の旅順・大連港を、さらにイギリスは九竜半島と(4)を、フランスは(5)をそれぞれ租借した。



なおアメリカは中国分割には直接加わらなかったが、1898年には(6)を併合し、ついでフィリピンを領有した。中国に関しては 。

(1) 文中の空欄(1)～(6)に入る語句をおのおの次のA～Jから記号で選べ。また、ドイツの租借地である(3)及びフランスの租借地である(5)の地図上の位置を地図中のア～カよりおのおの記号で選べ。

- | | | |
|---------|---------|---------|
| A) 広州湾, | B) 蘇州, | C) 遼東, |
| D) 威海衛, | E) ハワイ, | F) 福建, |
| G) 山東, | H) 沿海州, | I) グアム, |
| J) 膠州湾 | K) 重慶, | |



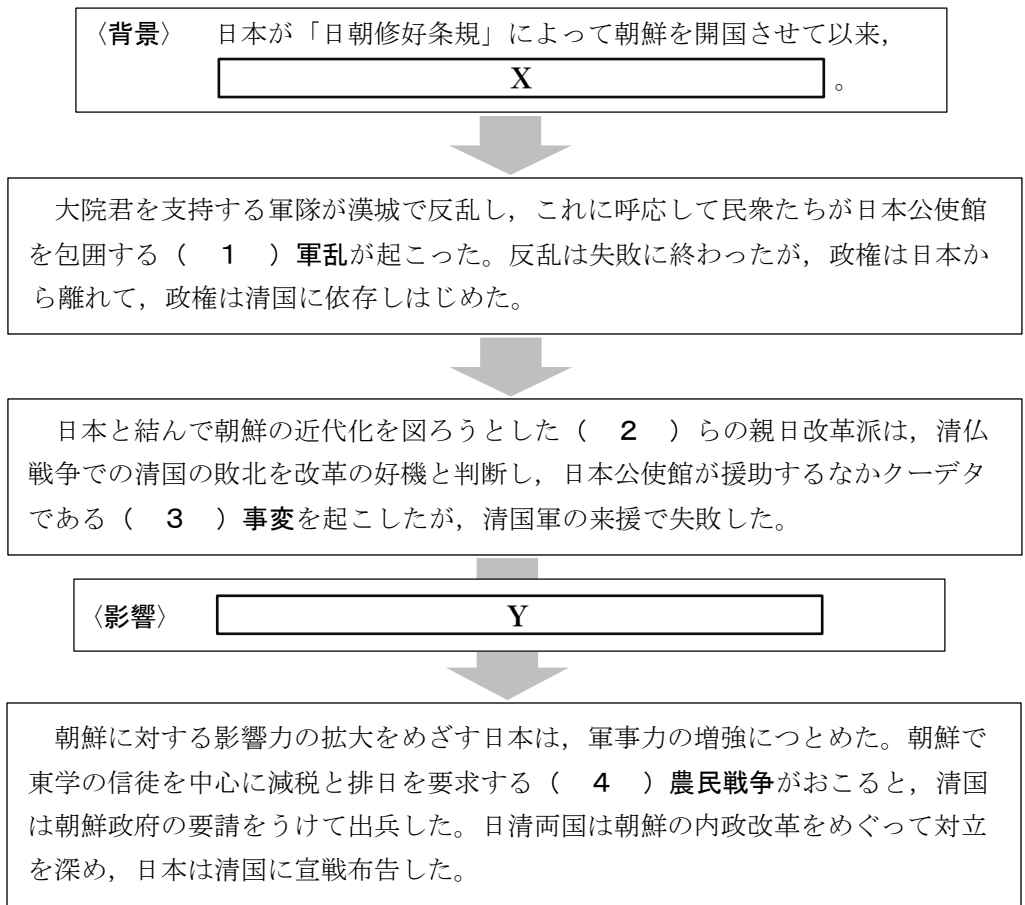
(2) Ⅱの状況について表現した風刺画として適当なものを、次の①～④から番号で選べ。



(3) Ⅱの文中 に入る文言として適当なものを、次から番号で選べ。

- ① 桂・タフト協定を結んで、勢力範囲下に入れぬことを約束した。
- ② 門戸開放・機会均等を列強に提案し、勢力範囲内での通商の自由を要求した。
- ③ 扶清滅洋を唱えて清朝政府を支持し、列強の勢力範囲を崩そうとした。
- ④ 臥薪嘗胆を唱えて清朝政府に借款をあたえ、勢力範囲下におこうとした。

問3 下線部 **b** とあるが、朝鮮問題から日清開戦に至るまでの経過をまとめた次の図式を参照し、後の問いにおおの答えよ。



(1) 上記の空欄 (1) ~ (4) にふさわしい語句や人名を次から選んで記入せよ。

〔語群〕 壬申, 甲午, 甲申, 壬午, 段祺瑞, 金玉均,

(2) 上記の空欄 X ・ Y にふさわしい文言を正しく選んだ組合せとして適当なものを、後の①~④から番号で選べ。

空欄 X

ア 日本への接近を求める閔妃一族と、親清・攘夷を唱える保守派の大院君の勢力とが対立していた。

イ 日本への接近を求める大院君と、親清・攘夷を唱える保守派の閔妃一族の勢力とが対立していた。

空欄 Y

ウ 日清で天津条約が結ばれ、出兵の際には事前に相互通告ことが取り決められた。

エ 朝鮮政府が防穀令を出し、日清両国への穀物輸出を禁止した。

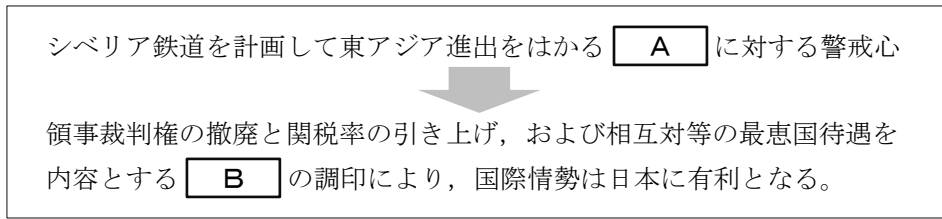
① X-ア Y-ウ

② X-ア Y-エ

③ X-イ Y-ウ

④ X-イ Y-エ

問4 下線部 c とあるが、日本とイギリスとの連携に関連する次の図式を参照し、図中の空欄 **A** ・ **B** に入る語句の組合せを、後の①～④から番号で選べ。



- ① A－ドイツ B－日英通商航海条約 ② A－ドイツ B－日英修好通商条約
 ③ A－ロシア B－日英通商航海条約 ④ A－ロシア B－日英修好通商条約

問5 Aのリード文(5ページ)にある【問い】「なぜ **イ** の考え方は変化したのだろうか？」に対する【答え】 **ウ** にあてはまる文について記述せよ。
 解答欄は3行用いることとする。※行の不足は内容が正解でも減点する。

B 1900年の北清事変を機に、ロシアは事実上中国東北部を事実上占領し、清国から独占的権益を得た。この事態に対し、日本政府内部にはロシアと妥協して「満韓交換」を行うか、イギリスと連携するかに意見が分かれた。結局、第1次桂太郎内閣は **X**。

国内には **d** 非戦論・反戦論を唱える者 もあったが、対露同志会や戸水寛人ら東京帝国大学などの七博士が主戦論を唱え、1904年に日露戦争が始まった。戦局は日本に有利に展開し、翌年の旅順陥落、さらにはロシアの(1) 艦隊を破った日本海海戦で勝利した。

1905年、アメリカ大統領セオドア＝ローズヴェルトの斡旋により、日本全権 **e** 小村寿太郎 とロシア全権(2) との間でポーツマス条約が調印された。この条約で日本は **f** 韓国の指導・監督権 のほか、 **Y** などを得た。日露戦争後の日本は、戦勝で得ることとなった **g** 大陸進出拠点の確保につとめた。

問6 文中の空欄(1) ・ (2) にふさわしい語句や人名をおのおの答えよ。

問7 上記の空欄 **X** ・ **Y** にふさわしい文言を正しく選んだ組合せとして適当なものを、後の①～④から番号で選べ。

空欄 **X**

- ア 第4次日露協約を結んだ
 イ 日英同盟協約を結んだ

空欄 **Y**

- ウ 北緯50度以北の樺太とその付属の諸島
 エ 長春以南の鉄道とその付属の利権

- ① X－ア Y－ウ ② X－ア Y－エ
 ③ X－イ Y－ウ ④ X－イ Y－エ

③ 第一次世界大戦と大正デモクラシー

I 近代ヨーロッパが発展させてきた政治・経済制度の矛盾や問題点を明らかにし、ヨーロッパが発信してきた近代科学・近代思想にも疑義や批判的なまなごしを向けさせたのが第一次世界大戦である。①第一次世界大戦はヨーロッパのみならず、イスラーム世界・アフリカ・アジアにも戦火を広げた。大戦は総力戦となり、②日本を含む参戦各国の政治・社会構造を変容させ、さらに③ロシア革命をもたらし、アメリカの世界政治への登場を導いた。

戦後、ヴェルサイユ体制やワシントン体制のもと、国際連盟による平和の実現が期待された。また多民族で構成されたオーストリアやオスマン帝国が解体して国民国家が主流となり、民主主義の実現と経済の回復への多様な取組がこころみられた。一方でインド・中国などを先頭に非ヨーロッパ諸地域の自立化への歩みを加速化させた。

第一次世界大戦で浮上した諸問題は、現代にいたる課題としても重要である。

問 1 下線部①とあるが、第一次世界大戦について述べた次の文中にある波線部①～⑧のうち、誤っているものを 2つ 選び、かつ 正しい語句 に改めよ。

20世紀に入る前後のヨーロッパ大陸では、ドイツが軍備を拡張して積極的な世界政策を進め、オーストリア・①イタリアとともに三国同盟を形成した。それに対して、ロシアとフランスの同盟にイギリスが加わり②三国協商が成立すると、ヨーロッパにおいては緊張が増大した。③バルカン半島ではドイツとロシアの対立が激化し、そこにさまざまな宗教・民族の対立が加わった結果、同半島は「ヨーロッパの④金庫」といわれ、一触即発の情勢となっていた。

1914年6月、オーストリア帝位継承者が、ボスニアの首都で新露的な⑤セルビア人に暗殺されるという⑥ヴェルダン事件が起こると、7月、オーストリアは宣戦した。戦いは4年余りも続き、新兵器として飛行機・戦車・⑦毒ガスが使われた。戦局は初めドイツ側が優勢であったが、イギリスの海上封鎖に苦しんだドイツが⑧無制限潜水艦攻撃を始めたのを契機にアメリカが参戦し、連合側側に有利に展開した。

問 2 下線部①とあるが、次の史料は1915年に日本が中国に対し要求したもの（一部）である。これに関連する後の①～④の各文のうち、適当でないものを番号で選べ。

第一条 支那国政府ハ、独逸国ガ山東省ニ関シ条約其ノ他ニ依リ支那国ニ対シテ有スル一切ノ権利・利益・譲与等ノ処分ニ付キ、日本国政府ガ独逸国政府ト協定スベキ一定ノ事項ヲ承認スベキコトヲ約ス。

- ① 第2次大隈内閣は中国の袁世凱政府に対し、この要求をつきつけた。
- ② この要求を認めた5月9日を中国では「国恥記念日」とよんでいる。
- ③ 中国では三民主義を唱える孫文が辛亥革命を起こしていた。
- ④ 原敬内閣は北方軍閥の段祺瑞政権に借款を与えて援助した。

問 3 下線部①とあるが、ロシア革命に関する次の(1)・(2)の問いにおのおの答えよ。

